



Музей советских игровых автоматов

ПРИГЛАШЕНИЕ

1-2 класс

номер участника 1012206

дата посещения 21.02.2018

Тип зачёта

индивидуальный  командный «друзья»  командный «одноклассники»

Класс 02, Школа № 224.

Название школы \_\_\_\_\_

(если есть) \_\_\_\_\_

01 Количество членов команды, пришедших в музей.

Фамилия Сивков (ФИО участника либо капитана команды)

Имя Федор

Отчество Михайлович

Список команды (для командного зачёта):



Не следует сгибать и мять листы Вашей работы.

Дата проверки 22.02.2018

Сумма баллов на очном туре 45

Подпись проверяющего \_\_\_\_\_

1. Перечислите автоматы музея, которые сделаны по мотивам различных сказок. Напишите их названия. Вам помогут эти персонажи:




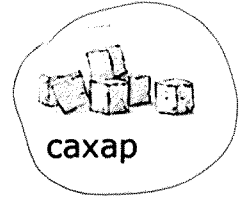


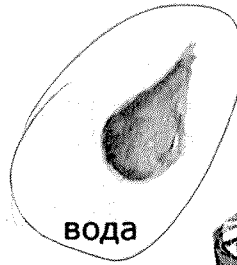
Котек-горбунчик  
кот рыбалов  
Репка  
Снежная королева

баллы:

--	--	--	--	--	--	--

0 1 2 3 4 5

2. Найдите в музее автомат «Газированная вода». Из чего состоит газировка «Тархун»? Обведите нужные ингредиенты.



баллы:


--	--	--	--	--	--	--

0 1 2 3 4 5

3. Какую неточность допустил художник, рисуя игровой автомат «Снайпер»?

баллы:

0	
1	
2	
3	
4	
5	✓



Неправильное количество элементов  
художник нарисовал меньше элементов


номер участника

1	0	1	2	2	0	6
---	---	---	---	---	---	---

4. Как называется этот игровой автомат? Подпишите название рядом и раскрасьте картинку, используя цвета музейного экземпляра.

баллы:

0	
1	
2	✓
3	
4	
5	



~~Футбол~~  
Хоккей

5. Найдите в музее телефонную будку и напишите, куда можно было позвонить бесплатно с помощью городского таксофона.




платная охрана - 01  
мешини - 02  
скорая помощь - 03  
служба газа - 04


баллы:

					✓
0	1	2	3	4	5


6. Найдите эти фигуры в одном из автоматов и подпишите к каждой фигуре название.



Самолет



Звезда



Пулеметное  
жезго

баллы:

					✓
0	1	2	3	4	5

7. Соедините стрелкой название автомата и его изображение.

МОРСКОЙ БОЙ

ЗОНА

САФАРИ

ПЕРЕКВАТЧИК



баллы:

0
1
2
3
4
5

8. Как обозначается маяк в Морском бое? Нарисуйте это обозначение. Сколько маяков расположено на карте, изображенной на автомате?



4 маяка

9. Решите задачу. Вам помогут правила автомата «Сафари».

Играя в «Сафари», вы подбили четырех антилоп, двух быков и одного носорога. Сколько животных вам осталось подбить, чтобы выиграть призовую игру?

6 животных

баллы:

0	1	2	3	4	5
---	---	---	---	---	---


баллы:

0	1	2	3	4	5
---	---	---	---	---	---

10. Подпишите названия деталей автомата «Магистраль».

баллы:

0
1
2
3
4
5



экран

руки

монитор прицела

пераш